

【鏡時計読み】

反転アナログ時計 10分刻み

名前 _____

No.001

かがみどけい はり さ じこく か


★鏡時計の針が指している時刻を書きましょう

分 秒

正解数

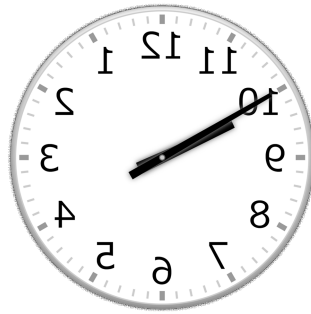
/9

①



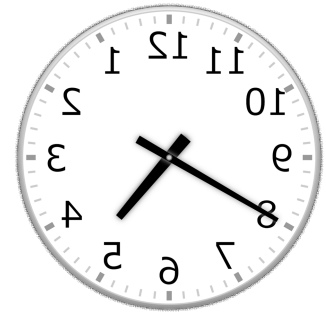
時 分

②




時 分

③



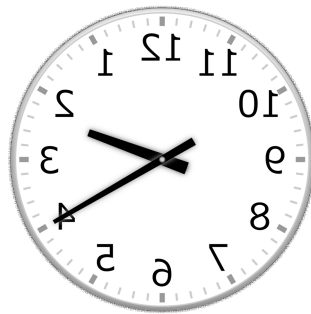
時 分

④




時 分

⑤




時 分

⑥



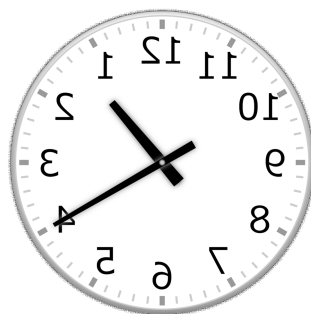
時 分

⑦




時 分

⑧



時 分

⑨



時 分

【鏡時計読み】

反転アナログ時計 10分刻み

名前 _____

No.001

かがみどけい はり さ じこく か


★鏡時計の針が指している時刻を書きましょう

分 秒

正解数

/9

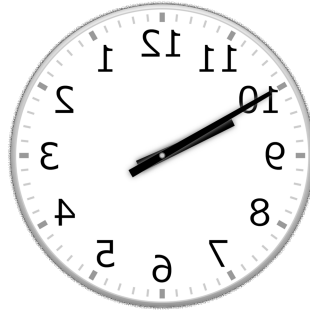
①



12時 40分

(0時 40分)

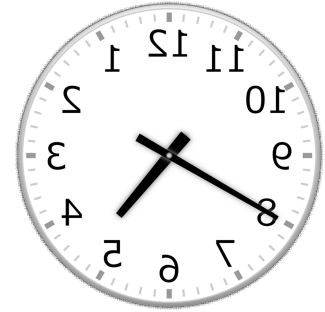
②



9時 50分

(21時 50分)


③



4時 40分

(16時 40分)

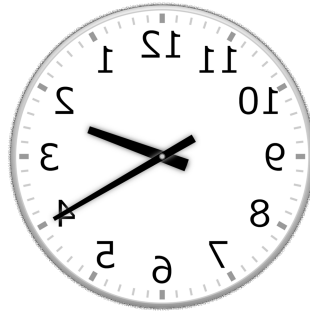
④



1時 30分

(13時 30分)


⑤



2時 20分

(14時 20分)


⑥



3時 30分

(15時 30分)

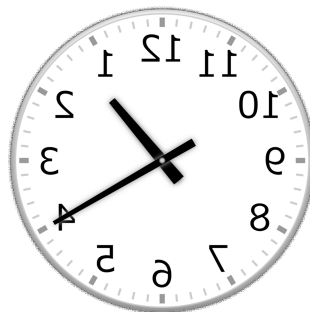
⑦



5時 40分

(17時 40分)


⑧



1時 20分

(13時 20分)

⑨



7時 30分

(19時 30分)