

# 【アナログ時計読み】

1分刻み

No.001

名前 \_\_\_\_\_

とけい はり さ      じこく か


★時計の針が指している時刻を書きましょう

分 秒

正解数


/ 9

①




時 分

②




時 分

③



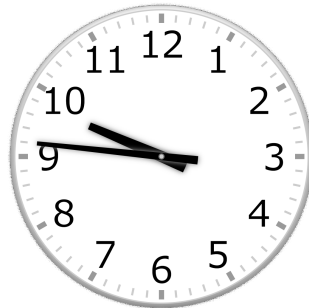
時 分

④




時 分

⑤




時 分

⑥




時 分

⑦




時 分

⑧



時 分

⑨



時 分

# 【アナログ時計読み】

名前 \_\_\_\_\_

1分刻み

No.001

とけい はり さ                      じこく か


★時計の針が指している時刻を書きましょう

分 秒

正解数

/9


①



12時 8分

(0時 8分)


②



10時 21分

(22時 21分)


③



5時 35分

(17時 35分)


④



7時 23分

(19時 23分)


⑤



9時 46分

(21時 46分)


⑥



10時 16分

(22時 16分)


⑦



4時 57分

(16時 57分)


⑧



3時 50分

(15時 50分)

⑨



8時 52分

(20時 52分)