

# 【アナログ時計読み】

名前 \_\_\_\_\_

10分刻み

No.001

とけい はり さ                      じこく か


★時計の針が指している時刻を書きましょう

分 秒

正解数


/9

①



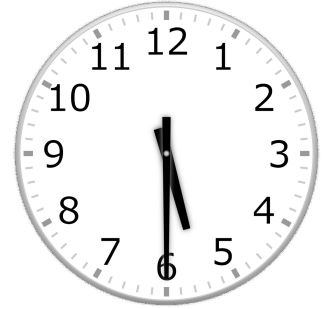
時 分

②




時 分

③




時 分

④




時 分

⑤




時 分

⑥



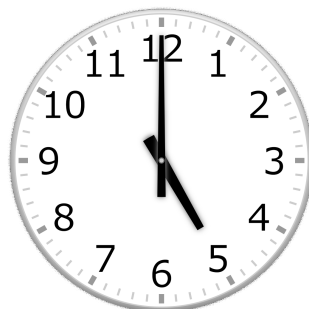
時 分

⑦




時 分

⑧



時 分

⑨



時 分

# 【アナログ時計読み】

名前 \_\_\_\_\_

10分刻み

No.001

とけい はり さ      じこく か


★時計の針が指している時刻を書きましょう

分 秒

正解数

/9


①



1時 10分

(13時 10分)


②



2時 30分

(14時 30分)


③



5時 30分

(17時 30分)


④



3時 50分

(15時 50分)


⑤



11時 40分

(23時 40分)


⑥



10時 20分

(22時 20分)


⑦



7時 10分

(19時 10分)

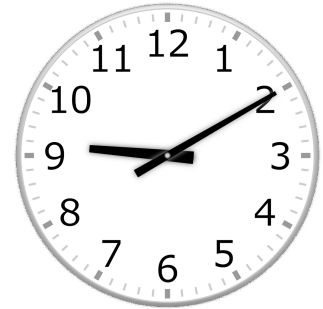
⑧



5時 0分

(17時 0分)

⑨



9時 10分

(21時 10分)