

【そろばんの珠読み】

10桁から12桁 8問

No.006

名前 _____

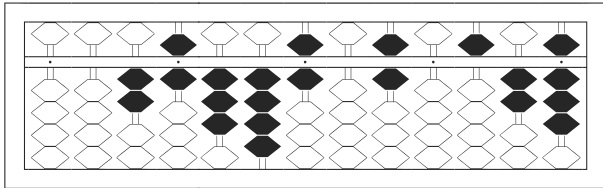
★たま よ すうじ かそろばんの珠を読んで数字で書きましょう。

分 秒

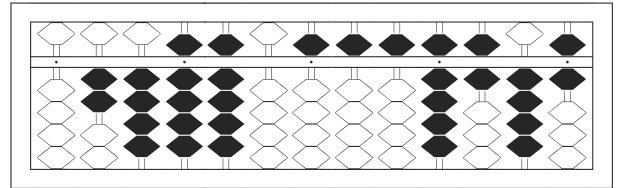
みざはし けた いち くらい
(※右端の桁を一の位とします)

正解数

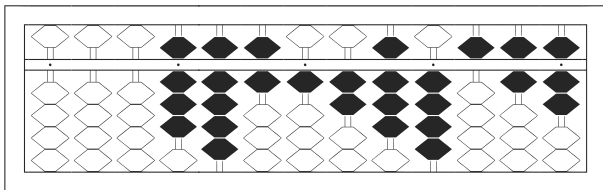
/ 8



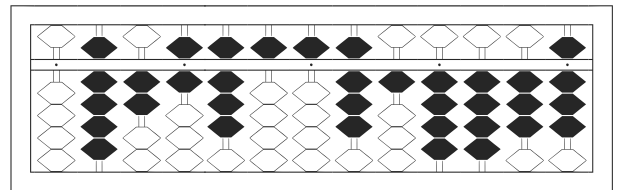
1



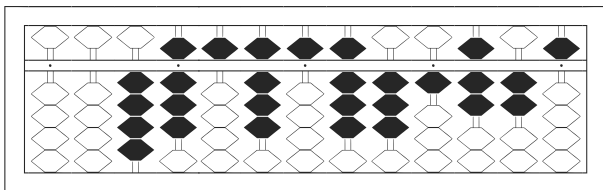
2



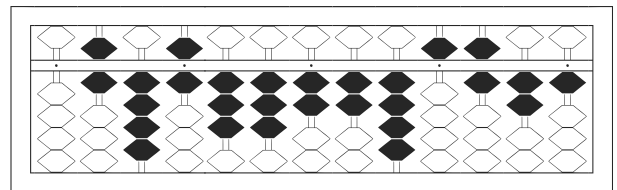
3



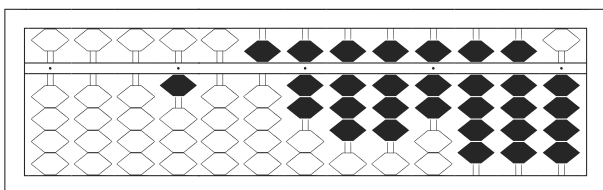
4



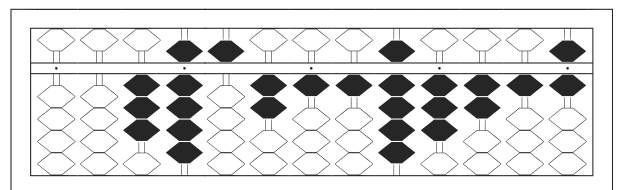
5



6



7



8

【そろばんの珠読み】

10桁から12桁 8問

No.006

名前 _____

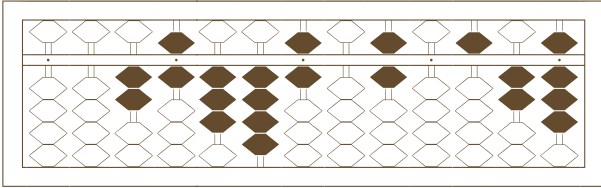
★たま よ すうじ かそろばんの珠を読んで数字で書きましょう。

分 秒

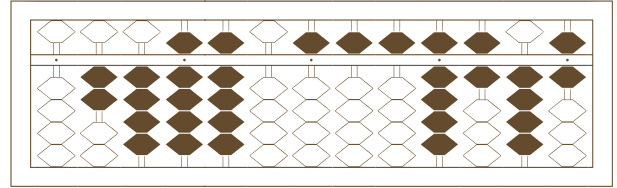
みぎはし けた いち くらい
(※右端の桁を一の位とします)

正解数

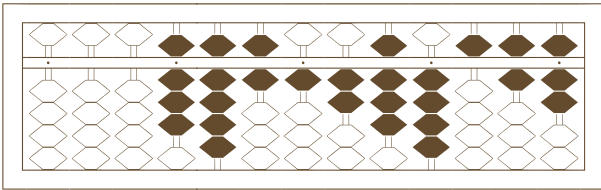
/ 8



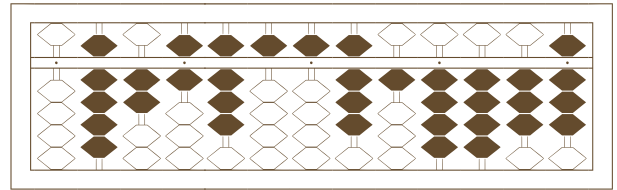
1



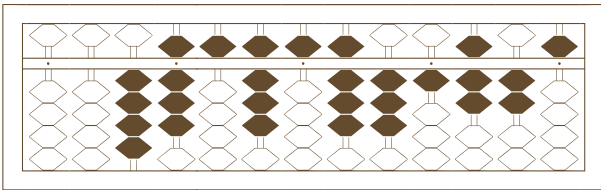
2



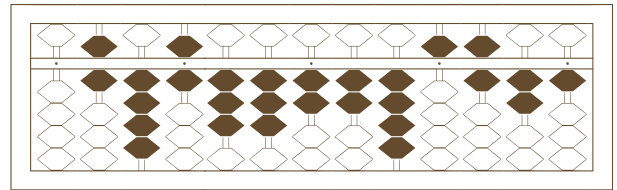
3



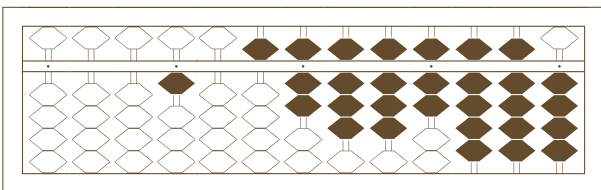
4



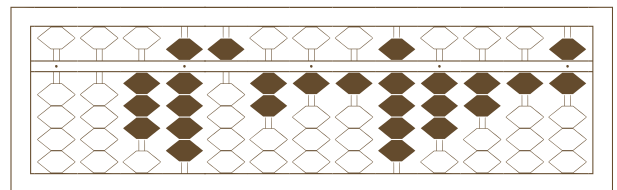
5



6



7



8

【そろばんの珠読み】

10桁から12桁 8問

No.006

名前 _____

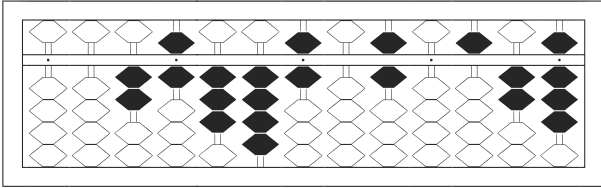
★たま よ すうじ かそろばんの珠を読んで数字で書きましょう。

分 秒

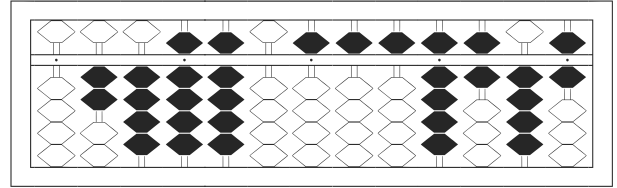
みぎはし けた いち くらい
(※右端の桁を一の位とします)

正解数

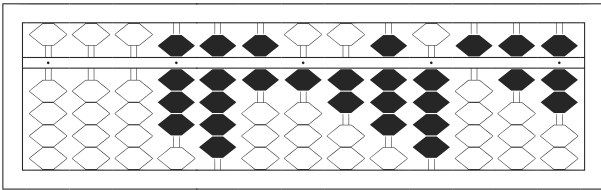
/ 8



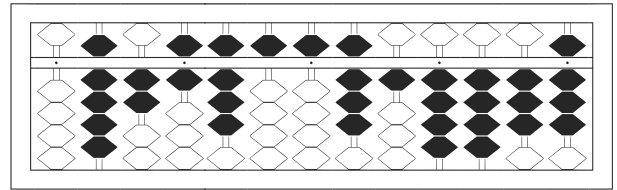
1 / 26,346,060,528



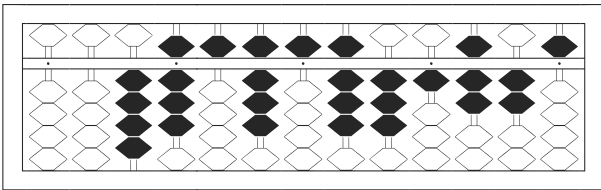
2 / 249,905,559,646



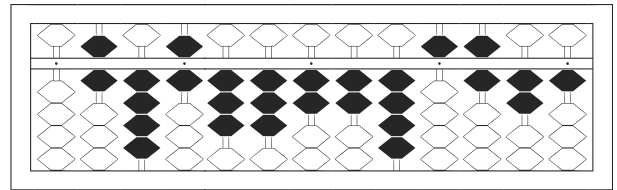
3 / 8,961,284,567



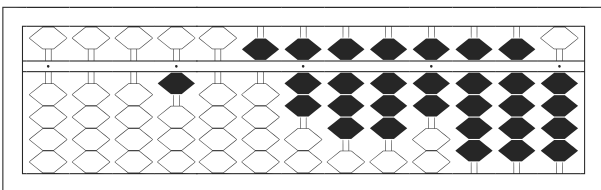
4 / 926,855,814,438



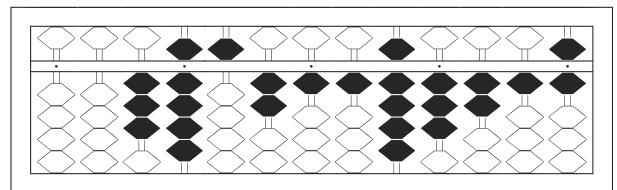
5 / 48,585,831,725



6 / 646,332,245,621



7 / 1,057,887,994



8 / 39,521,193,216