

【イラスト計算 たしざん】

2口 20まで

名前 _____










No.010



★計算式のイラストに対応表の数を当てはめて計算しましょう

分 秒



--



点



 = 7	 = 8	 = 1
 = 5	 = 2	 = 6
 = 3	 = 4	 = 9



①  +  =



⑥  +  =



②  +  =



⑦  +  =



③  +  =

⑧  +  =

④  +  =

⑨  +  =

⑤  +  =

⑩  +  =

【イラスト計算 たしざん】

2口 20まで

名前 _____










No.010




















★計算式のイラストに対応表の数を当てはめて計算しましょう

分 秒

--

点

 = 7	 = 8	 = 1
 = 5	 = 2	 = 6
 = 3	 = 4	 = 9

- | | |
|---|--|
| <p>①  +  = 9
7 + 2</p> | <p>⑥  +  = 7
5 + 2</p> |
| <p>②  +  = 4
2 + 2</p> | <p>⑦  +  = 9
3 + 6</p> |
| <p>③  +  = 11
9 + 2</p> | <p>⑧  +  = 10
6 + 4</p> |
| <p>④  +  = 12
8 + 4</p> | <p>⑨  +  = 11
7 + 4</p> |
| <p>⑤  +  = 10
1 + 9</p> | <p>⑩  +  = 9
8 + 1</p> |