

【イラスト計算 たしざん】

2口 20まで










名前 _____



No.008



★計算式のイラストに対応表の数を当てはめて計算しましょう



分 秒



	点
--	---



 = 7	 = 9	 = 3
 = 2	 = 4	 = 6
 = 5	 = 1	 = 8

①  +  =



⑥  +  =



②  +  =


⑦  +  =



③  +  =

⑧  +  =

④  +  =

⑨  +  =

⑤  +  =

⑩  +  =

【イラスト計算 たしざん】

2口 20まで










名前 _____





















No.008

★計算式のイラストに対応表の数を当てはめて計算しましょう

分 秒

	点
--	---

 = 7	 = 9	 = 3
 = 2	 = 4	 = 6
 = 5	 = 1	 = 8

- | | |
|---|--|
| <p>①  +  = 13
5 + 8</p> <p>②  +  = 8
4 + 4</p> <p>③  +  = 12
6 + 6</p> <p>④  +  = 11
7 + 4</p> <p>⑤  +  = 3
1 + 2</p> | <p>⑥  +  = 9
4 + 5</p> <p>⑦  +  = 11
8 + 3</p> <p>⑧  +  = 10
3 + 7</p> <p>⑨  +  = 10
9 + 1</p> <p>⑩  +  = 8
6 + 2</p> |
|---|--|