

【イラスト計算 たしざん】

2口 20まで










名前 _____



No.007



★計算式のイラストに対応表の数を当てはめて計算しましょう



分 秒



	点
--	---



 = 2	 = 1	 = 6
 = 5	 = 4	 = 7
 = 9	 = 8	 = 3



①  +  =



⑥  +  =



②  +  =

⑦  +  =



③  +  =

⑧  +  =

④  +  =

⑨  +  =

⑤  +  =

⑩  +  =

【イラスト計算 たしざん】

2口 20まで










名前 _____





















No.007

けいさんしき たいおうひょう かず あ けいさん
 ★計算式のイラストに対応表の数を当てはめて計算しましょう

分 秒

	点
--	---

 = 2	 = 1	 = 6
 = 5	 = 4	 = 7
 = 9	 = 8	 = 3

- | | |
|--|--|
| <p>①  +  = 11
 8 + 3</p> <p>②  +  = 16
 9 + 7</p> <p>③  +  = 6
 2 + 4</p> <p>④  +  = 8
 4 + 4</p> <p>⑤  +  = 12
 3 + 9</p> | <p>⑥  +  = 8
 3 + 5</p> <p>⑦  +  = 12
 7 + 5</p> <p>⑧  +  = 12
 4 + 8</p> <p>⑨  +  = 14
 8 + 6</p> <p>⑩  +  = 15
 7 + 8</p> |
|--|--|