

【イラスト計算 たしざん】

2口 20まで










名前 _____















No.004

けいさんしき たいおうひょう かず あ けいさん
 ★計算式のイラストに対応表の数を当てはめて計算しましょう

分 秒

	点
--	---

 = 7	 = 5	 = 1
 = 4	 = 2	 = 9
 = 8	 = 6	 = 3

- | | |
|---|--|
| ①  +  = | ⑥  +  = |
| ②  +  = | ⑦  +  = |
| ③  +  = | ⑧  +  = |
| ④  +  = | ⑨  +  = |
| ⑤  +  = | ⑩  +  = |

【イラスト計算 たしざん】

2口 20まで

名前 _____










No.004





















★計算式のイラストに対応表の数を当てはめて計算しましょう

分 秒

--

点

 = 7	 = 5	 = 1
 = 4	 = 2	 = 9
 = 8	 = 6	 = 3

- | | |
|---|--|
| <p>①  +  = 11
2 + 9</p> | <p>⑥  +  = 5
1 + 4</p> |
| <p>②  +  = 10
6 + 4</p> | <p>⑦  +  = 10
2 + 8</p> |
| <p>③  +  = 6
5 + 1</p> | <p>⑧  +  = 16
7 + 9</p> |
| <p>④  +  = 6
2 + 4</p> | <p>⑨  +  = 10
1 + 9</p> |
| <p>⑤  +  = 5
2 + 3</p> | <p>⑩  +  = 7
2 + 5</p> |