

【イラスト計算 たしざん】

2口 20まで

名前 _____










No.003





















けいさんしき たいおうひょう かず あ けいさん
 ★計算式のイラストに対応表の数を当てはめて計算しましょう

分 秒

| |
|--|
| |
|--|

点

| | | |
|--|--|--|
|  = 9 |  = 3 |  = 1 |
|  = 4 |  = 8 |  = 7 |
|  = 2 |  = 6 |  = 5 |

- | | |
|---|--|
| ①  +  = | ⑥  +  = |
| ②  +  = | ⑦  +  = |
| ③  +  = | ⑧  +  = |
| ④  +  = | ⑨  +  = |
| ⑤  +  = | ⑩  +  = |

【イラスト計算 たしざん】

2口 20まで










名前 _____

No.003

★計算式のイラストに対応表の数を当てはめて計算しましょう

分 秒

| | |
|--|---|
| | 点 |
|--|---|

| | | |
|--|--|--|
|  = 9 |  = 3 |  = 1 |
|  = 4 |  = 8 |  = 7 |
|  = 2 |  = 6 |  = 5 |

- | | |
|--|--|
| <p>①  +  = 14 6 + 8</p> <p>②  +  = 5 2 + 3</p> <p>③  +  = 16 7 + 9</p> <p>④  +  = 6 3 + 3</p> <p>⑤  +  = 6 2 + 4</p> | <p>⑥  +  = 13 8 + 5</p> <p>⑦  +  = 9 1 + 8</p> <p>⑧  +  = 8 2 + 6</p> <p>⑨  +  = 11 6 + 5</p> <p>⑩  +  = 10 5 + 5</p> |
|--|--|