

【イラスト計算 たしざん】

2口 20まで










名前 _____



No.002



けいさんしき たいおうひょう かず あ けいさん
 ★計算式のイラストに対応表の数を当てはめて計算しましょう



分 秒



	点
--	---



 = 4	 = 1	 = 6
 = 2	 = 7	 = 5
 = 9	 = 8	 = 3



①  +  =



⑥  +  =



②  +  =



⑦  +  =



③  +  =

⑧  +  =

④  +  =

⑨  +  =

⑤  +  =

⑩  +  =

【イラスト計算 たしざん】

2回 20まで










名前 _____

No.002

★計算式のイラストに対応表の数を当てはめて計算しましょう

分 秒

点

 = 4	 = 1	 = 6
 = 2	 = 7	 = 5
 = 9	 = 8	 = 3

- | | |
|--|--|
| <p>①  +  = 11
2 + 9</p> <p>②  +  = 13
4 + 9</p> <p>③  +  = 8
5 + 3</p> <p>④  +  = 15
7 + 8</p> <p>⑤  +  = 10
3 + 7</p> | <p>⑥  +  = 8
1 + 7</p> <p>⑦  +  = 8
2 + 6</p> <p>⑧  +  = 8
4 + 4</p> <p>⑨  +  = 9
7 + 2</p> <p>⑩  +  = 12
9 + 3</p> |
|--|--|