

【イラスト計算 たしざん】

2口 20まで










名前 _____





No.001

★計算式のイラストに対応表の数を当てはめて計算しましょう

分 秒

	点
--	---

 = 6	 = 4	 = 1
 = 5	 = 3	 = 2
 = 9	 = 8	 = 7

- | | |
|--|---|
| <p>①  +  = 13
9 + 4</p> <p>②  +  = 4
2 + 2</p> <p>③  +  = 14
5 + 9</p> <p>④  +  = 9
6 + 3</p> <p>⑤  +  = 5
4 + 1</p> | <p>⑥  +  = 14
7 + 7</p> <p>⑦  +  = 12
8 + 4</p> <p>⑧  +  = 10
4 + 6</p> <p>⑨  +  = 8
6 + 2</p> <p>⑩  +  = 14
9 + 5</p> |
|--|---|

【イラスト計算 たしざん】

2回 20まで










名前 _____

No.002

★計算式のイラストに対応表の数を当てはめて計算しましょう

分 秒

点

 = 4	 = 1	 = 6
 = 2	 = 7	 = 5
 = 9	 = 8	 = 3

- | | |
|--|--|
| <p>①  +  = 11
2 + 9</p> <p>②  +  = 13
4 + 9</p> <p>③  +  = 8
5 + 3</p> <p>④  +  = 15
7 + 8</p> <p>⑤  +  = 10
3 + 7</p> | <p>⑥  +  = 8
1 + 7</p> <p>⑦  +  = 8
2 + 6</p> <p>⑧  +  = 8
4 + 4</p> <p>⑨  +  = 9
7 + 2</p> <p>⑩  +  = 12
9 + 3</p> |
|--|--|

【イラスト計算 たしざん】

2口 20まで










名前 _____

No.003

★計算式のイラストに対応表の数を当てはめて計算しましょう

分 秒

	点
--	---

 = 9	 = 3	 = 1
 = 4	 = 8	 = 7
 = 2	 = 6	 = 5

- | | |
|---|--|
| <p>①  +  = 14
6 + 8</p> | <p>⑥  +  = 13
8 + 5</p> |
| <p>②  +  = 5
2 + 3</p> | <p>⑦  +  = 9
1 + 8</p> |
| <p>③  +  = 16
7 + 9</p> | <p>⑧  +  = 8
2 + 6</p> |
| <p>④  +  = 6
3 + 3</p> | <p>⑨  +  = 11
6 + 5</p> |
| <p>⑤  +  = 6
2 + 4</p> | <p>⑩  +  = 10
5 + 5</p> |

【イラスト計算 たしざん】

2口 20まで










名前 _____





















No.004

けいさんしき たいおうひょう かず あ けいさん
 ★計算式のイラストに対応表の数を当てはめて計算しましょう

分 秒

	点
--	---

 = 7	 = 5	 = 1
 = 4	 = 2	 = 9
 = 8	 = 6	 = 3

- | | |
|---|--|
| ①  +  = 11
2 + 9 | ⑥  +  = 5
1 + 4 |
| ②  +  = 10
6 + 4 | ⑦  +  = 10
2 + 8 |
| ③  +  = 6
5 + 1 | ⑧  +  = 16
7 + 9 |
| ④  +  = 6
2 + 4 | ⑨  +  = 10
1 + 9 |
| ⑤  +  = 5
2 + 3 | ⑩  +  = 7
2 + 5 |

【イラスト計算 たしざん】

2口 20まで










名前 _____

No.005

★計算式のイラストに対応表の数を当てはめて計算しましょう

分 秒

	点
--	---

 = 3	 = 7	 = 8
 = 2	 = 6	 = 4
 = 9	 = 5	 = 1

- | | |
|--|--|
| <p>①  +  = 11
2 + 9</p> <p>②  +  = 9
7 + 2</p> <p>③  +  = 13
9 + 4</p> <p>④  +  = 7
5 + 2</p> <p>⑤  +  = 9
5 + 4</p> | <p>⑥  +  = 13
8 + 5</p> <p>⑦  +  = 10
3 + 7</p> <p>⑧  +  = 7
1 + 6</p> <p>⑨  +  = 9
3 + 6</p> <p>⑩  +  = 15
8 + 7</p> |
|--|--|

【イラスト計算 たしざん】

2口 20まで










名前 _____





















No.006

★計算式のイラストに対応表の数を当てはめて計算しましょう

分 秒

	点
--	---

 = 6	 = 9	 = 8
 = 3	 = 1	 = 5
 = 2	 = 7	 = 4

- | | |
|---|--|
| <p>①  +  = 10
9 + 1</p> | <p>⑥  +  = 7
3 + 4</p> |
| <p>②  +  = 9
3 + 6</p> | <p>⑦  +  = 11
3 + 8</p> |
| <p>③  +  = 6
1 + 5</p> | <p>⑧  +  = 7
6 + 1</p> |
| <p>④  +  = 8
6 + 2</p> | <p>⑨  +  = 9
8 + 1</p> |
| <p>⑤  +  = 13
4 + 9</p> | <p>⑩  +  = 5
2 + 3</p> |

【イラスト計算 たしざん】

2口 20まで










名前 _____





















No.007

★計算式のイラストに対応表の数を当てはめて計算しましょう

分 秒

点

 = 2	 = 1	 = 6
 = 5	 = 4	 = 7
 = 9	 = 8	 = 3

- | | |
|---|--|
| <p>①  +  = 11
8 + 3</p> | <p>⑥  +  = 8
3 + 5</p> |
| <p>②  +  = 16
9 + 7</p> | <p>⑦  +  = 12
7 + 5</p> |
| <p>③  +  = 6
2 + 4</p> | <p>⑧  +  = 12
4 + 8</p> |
| <p>④  +  = 8
4 + 4</p> | <p>⑨  +  = 14
8 + 6</p> |
| <p>⑤  +  = 12
3 + 9</p> | <p>⑩  +  = 15
7 + 8</p> |

【イラスト計算 たしざん】

2口 20まで

名前 _____










No.008





















★計算式のイラストに対応表の数を当てはめて計算しましょう

分 秒

--

点

 = 7	 = 9	 = 3
 = 2	 = 4	 = 6
 = 5	 = 1	 = 8

- | | |
|---|--|
| <p>①  +  = 13
5 + 8</p> | <p>⑥  +  = 9
4 + 5</p> |
| <p>②  +  = 8
4 + 4</p> | <p>⑦  +  = 11
8 + 3</p> |
| <p>③  +  = 12
6 + 6</p> | <p>⑧  +  = 10
3 + 7</p> |
| <p>④  +  = 11
7 + 4</p> | <p>⑨  +  = 10
9 + 1</p> |
| <p>⑤  +  = 3
1 + 2</p> | <p>⑩  +  = 8
6 + 2</p> |

【イラスト計算 たしざん】

2口 20まで










名前 _____





















No.009

★計算式のイラストに対応表の数を当てはめて計算しましょう

分 秒

点

 = 6	 = 8	 = 2
 = 3	 = 4	 = 1
 = 9	 = 5	 = 7

- | | |
|--|---|
| <p>①  +  = 8
5 + 3</p> <p>②  +  = 13
6 + 7</p> <p>③  +  = 12
5 + 7</p> <p>④  +  = 13
9 + 4</p> <p>⑤  +  = 11
7 + 4</p> | <p>⑥  +  = 17
8 + 9</p> <p>⑦  +  = 5
4 + 1</p> <p>⑧  +  = 11
8 + 3</p> <p>⑨  +  = 7
6 + 1</p> <p>⑩  +  = 7
1 + 6</p> |
|--|---|

【イラスト計算 たしざん】

2口 20まで










名前 _____





















No.010

★計算式のイラストに対応表の数を当てはめて計算しましょう

分 秒

	点
--	---

 = 7	 = 8	 = 1
 = 5	 = 2	 = 6
 = 3	 = 4	 = 9

- | | |
|---|---|
| <p>①  +  = 9
7 + 2</p> <p>②  +  = 4
2 + 2</p> <p>③  +  = 11
9 + 2</p> <p>④  +  = 12
8 + 4</p> <p>⑤  +  = 10
1 + 9</p> | <p>⑥  +  = 7
5 + 2</p> <p>⑦  +  = 9
3 + 6</p> <p>⑧  +  = 10
6 + 4</p> <p>⑨  +  = 11
7 + 4</p> <p>⑩  +  = 9
8 + 1</p> |
|---|---|