

【イラスト計算 たしざん】

2口 20まで

名前 _____










No.001



けいさんしき たいおうひょう かず あ けいさん
 ★計算式のイラストに対応表の数を当てはめて計算しましょう



分 秒



--



点

 = 6	 = 4	 = 1
 = 5	 = 3	 = 2
 = 9	 = 8	 = 7

①  +  =



⑥  +  =



②  +  =



⑦  +  =



③  +  =

⑧  +  =

④  +  =

⑨  +  =

⑤  +  =

⑩  +  =

【イラスト計算 たしざん】

2回 20まで










名前 _____



No.002



けいさんしき たいおうひょう かず あ けいさん
 ★計算式のイラストに対応表の数を当てはめて計算しましょう



分 秒



	点
--	---



 = 4	 = 1	 = 6
 = 2	 = 7	 = 5
 = 9	 = 8	 = 3



①  +  =



⑥  +  =



②  +  =



⑦  +  =



③  +  =

⑧  +  =

④  +  =

⑨  +  =

⑤  +  =

⑩  +  =

【イラスト計算 たしざん】

2口 20まで










名前 _____





















No.003

けいさんしき たいおうひょう かず あ けいさん
 ★計算式のイラストに対応表の数を当てはめて計算しましょう

分 秒

	点
--	---

 = 9	 = 3	 = 1
 = 4	 = 8	 = 7
 = 2	 = 6	 = 5

- | | |
|---|--|
| ①  +  = | ⑥  +  = |
| ②  +  = | ⑦  +  = |
| ③  +  = | ⑧  +  = |
| ④  +  = | ⑨  +  = |
| ⑤  +  = | ⑩  +  = |

【イラスト計算 たしざん】

2口 20まで










名前 _____
















No.004

けいさんしき たいおうひょう かず あ けいさん
 ★計算式のイラストに対応表の数を当てはめて計算しましょう

分 秒

	点
--	---

 = 7	 = 5	 = 1
 = 4	 = 2	 = 9
 = 8	 = 6	 = 3

- | | |
|---|--|
| ①  +  = | ⑥  +  = |
| ②  +  = | ⑦  +  = |
| ③  +  = | ⑧  +  = |
| ④  +  = | ⑨  +  = |
| ⑤  +  = | ⑩  +  = |

【イラスト計算 たしざん】

2回 20まで










名前 _____













No.005

けいさんしき たいおうひょう かず あ けいさん
 ★計算式のイラストに対応表の数を当てはめて計算しましょう

分 秒

	点
--	---

 = 3	 = 7	 = 8
 = 2	 = 6	 = 4
 = 9	 = 5	 = 1

- | | |
|--|---|
| <p>①  +  =</p> <p>②  +  =</p> <p>③  +  =</p> <p>④  +  =</p> <p>⑤  +  =</p> | <p>⑥  +  =</p> <p>⑦  +  =</p> <p>⑧  +  =</p> <p>⑨  +  =</p> <p>⑩  +  =</p> |
|--|---|

【イラスト計算 たしざん】

2回 20まで

名前 _____










No.006





















★計算式のイラストに対応表の数を当てはめて計算しましょう

分 秒

--

点

 = 6	 = 9	 = 8
 = 3	 = 1	 = 5
 = 2	 = 7	 = 4

- | | |
|---|--|
| ①  +  = | ⑥  +  = |
| ②  +  = | ⑦  +  = |
| ③  +  = | ⑧  +  = |
| ④  +  = | ⑨  +  = |
| ⑤  +  = | ⑩  +  = |

【イラスト計算 たしざん】

2回 20まで










名前 _____



No.007


★計算式のイラストに対応表の数を当てはめて計算しましょう



分 秒



	点
--	---



 = 2	 = 1	 = 6
 = 5	 = 4	 = 7
 = 9	 = 8	 = 3



①  +  =



⑥  +  =



②  +  =



⑦  +  =



③  +  =

⑧  +  =

④  +  =

⑨  +  =

⑤  +  =

⑩  +  =

【イラスト計算 たしざん】

2口 20まで










名前 _____





















No.008

けいさんしき たいおうひょう かず あ けいさん
 ★計算式のイラストに対応表の数を当てはめて計算しましょう

分 秒

	点
--	---

 = 7	 = 9	 = 3
 = 2	 = 4	 = 6
 = 5	 = 1	 = 8

- | | |
|---|--|
| ①  +  = | ⑥  +  = |
| ②  +  = | ⑦  +  = |
| ③  +  = | ⑧  +  = |
| ④  +  = | ⑨  +  = |
| ⑤  +  = | ⑩  +  = |

【イラスト計算 たしざん】

2口 20まで

名前 _____










No.009





















★計算式のイラストに対応表の数を当てはめて計算しましょう

分 秒

--

点

 = 6	 = 8	 = 2
 = 3	 = 4	 = 1
 = 9	 = 5	 = 7

- | | |
|---|--|
| ①  +  = | ⑥  +  = |
| ②  +  = | ⑦  +  = |
| ③  +  = | ⑧  +  = |
| ④  +  = | ⑨  +  = |
| ⑤  +  = | ⑩  +  = |

【イラスト計算 たしざん】

2口 20まで

名前 _____










No.010



★計算式のイラストに対応表の数を当てはめて計算しましょう



分 秒



--



点



 = 7	 = 8	 = 1
 = 5	 = 2	 = 6
 = 3	 = 4	 = 9



①  +  =



⑥  +  =



②  +  =



⑦  +  =



③  +  =

⑧  +  =

④  +  =

⑨  +  =

⑤  +  =

⑩  +  =