

【イラスト計算 かけざん】

2口 九九のはんい

名前 _____










No.007

けいさんしき たいおうひょう かず あ けいさん
 ★計算式のイラストに対応表の数を当てはめて計算しましょう

分 秒

--

点

 = 7	 = 4	 = 5
 = 1	 = 2	 = 3
 = 9	 = 6	 = 8

- | | |
|---|--|
| ①  ×  = | ⑥  ×  = |
| ②  ×  = | ⑦  ×  = |
| ③  ×  = | ⑧  ×  = |
| ④  ×  = | ⑨  ×  = |
| ⑤  ×  = | ⑩  ×  = |

【イラスト計算 かけざん】

2口 九九のはんい

名前 _____










No.007





















けいさんしき たいおうひょう かず あ けいさん
 ★計算式のイラストに対応表の数を当てはめて計算しましょう

分 秒

--

点

 = 7	 = 4	 = 5
 = 1	 = 2	 = 3
 = 9	 = 6	 = 8

- | | |
|--|--|
| <p>①  ×  = 42
 6 × 7</p> <p>②  ×  = 3
 3 × 1</p> <p>③  ×  = 32
 4 × 8</p> <p>④  ×  = 45
 9 × 5</p> <p>⑤  ×  = 6
 2 × 3</p> | <p>⑥  ×  = 6
 6 × 1</p> <p>⑦  ×  = 14
 7 × 2</p> <p>⑧  ×  = 72
 8 × 9</p> <p>⑨  ×  = 18
 6 × 3</p> <p>⑩  ×  = 27
 3 × 9</p> |
|--|--|