

【イラスト計算 かけざん】

2口 九九のはんい

名前 _____










No.003





















けいさんしき たいおうひょう かず あ けいさん
 ★計算式のイラストに対応表の数を当てはめて計算しましょう

分 秒

--

点

 = 7	 = 1	 = 3
 = 5	 = 4	 = 8
 = 2	 = 6	 = 9

- | | |
|---|--|
| ①  ×  = | ⑥  ×  = |
| ②  ×  = | ⑦  ×  = |
| ③  ×  = | ⑧  ×  = |
| ④  ×  = | ⑨  ×  = |
| ⑤  ×  = | ⑩  ×  = |

【イラスト計算 かけざん】

2口 九九のはんい










名前 _____

No.003

★計算式のイラストに対応表の数を当てはめて計算しましょう

分 秒

	点
--	---

 = 7	 = 1	 = 3
 = 5	 = 4	 = 8
 = 2	 = 6	 = 9

- | | |
|---|--|
| <p>①  ×  = 72
9 × 8</p> <p>②  ×  = 10
5 × 2</p> <p>③  ×  = 24
4 × 6</p> <p>④  ×  = 30
6 × 5</p> <p>⑤  ×  = 18
3 × 6</p> | <p>⑥  ×  = 7
7 × 1</p> <p>⑦  ×  = 9
3 × 3</p> <p>⑧  ×  = 56
8 × 7</p> <p>⑨  ×  = 20
5 × 4</p> <p>⑩  ×  = 16
8 × 2</p> |
|---|--|