

# 【イラスト計算 かけざん】

2回 九九のはんい

名前 \_\_\_\_\_










No.001

けいさんしき      たいおうひょう      かず      あ      けいさん  
 ★計算式のイラストに対応表の数を当てはめて計算しましょう

分      秒

--

点

 = 6	 = 7	 = 1
 = 5	 = 9	 = 3
 = 2	 = 8	 = 4

- |  |   |
|--|---|
| <p>①  ×  =</p> <p>②  ×  =</p> <p>③  ×  =</p> <p>④  ×  =</p> <p>⑤  ×  =</p> | <p>⑥  ×  =</p> <p>⑦  ×  =</p> <p>⑧  ×  =</p> <p>⑨  ×  =</p> <p>⑩  ×  =</p> |
|--|---|

# 【イラスト計算 かけざん】

2回 九九のはんい

名前 \_\_\_\_\_










No.001


★計算式のイラストに対応表の数を当てはめて計算しましょう

分 秒

--

点

 = 6	 = 7	 = 1
 = 5	 = 9	 = 3
 = 2	 = 8	 = 4

- |   |  |
|---|--|
| <p>①  ×  = 45<br/>5 × 9</p> | <p>⑥  ×  = 9<br/>9 × 1</p>  |
| <p>②  ×  = 9<br/>3 × 3</p>  | <p>⑦  ×  = 24<br/>8 × 3</p> |
| <p>③  ×  = 3<br/>3 × 1</p>  | <p>⑧  ×  = 15<br/>3 × 5</p> |
| <p>④  ×  = 42<br/>7 × 6</p> | <p>⑨  ×  = 40<br/>8 × 5</p> |
| <p>⑤  ×  = 40<br/>5 × 8</p> | <p>⑩  ×  = 24<br/>6 × 4</p> |